

Peso lordo, peso netto e tara



Peso lordo, peso netto e tara sono **tre grandezze** che fanno riferimento al **peso** di qualcosa.

Il **peso lordo** fa riferimento al **peso complessivo**,

il **peso netto** è l'**effettivo peso della merce**

la **tara** è il **peso del contenitore**.

TARA


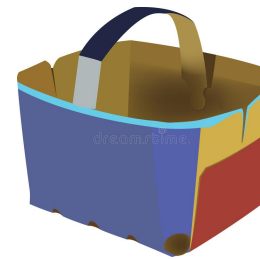


PESO LORDO



PESO NETTO






TARA = PESO LORDO - PESO NETTO



PESO LORDO= PESO NETTO + TARA



PESO NETTO= PESO LORDO - TARA



Problemi al mercato 3

- Un camion carica 500 cassette di mele per un totale di 5 Mg, se le sole cassette pesano 1kg l'una, quanto è il peso netto delle mele?
- Un supermercato acquista 8 mag di pesce fresco disposti in cassette. se ogni cassetta vuota pesa 3kg, quanto è il peso netto del pesce acquistato?
- 10 quintali di mele in 10 cassette da 2kg l'una . Quale il peso netto?
- Una nave da trasporto ha un carico di mattonelle. Se le mattonelle pesano 30 Mag e la tara è di 100Kg, quanto pesa l'intero carico?
- Un treno merci ha un carico di mattoni di 110q, se i soli mattoni pesano 100q, quanto pesano le casse vuote?



Problemi al mercato 1



Problemi al mercato 2

Un signore va al mercato e dentro il cestello mette 3Kg di pomodori, 2kg di mele, 3 kg di pere e 2kg di carote. Se il cestello pesa 1,5Kg, qual è il peso lordo?

Una signora compra 5kg di mele, se la cassetta vuota pesa 300g, qual è il peso lordo?

Una signora al mercato compra 2 kg di pomodori. Sulla bilancia viene messa una cestina e dentro i 2kg pomodori. Il tutto pesa 2,5kg. Qual è il peso della tara?

La mamma di Laura ha comprato una cassetta di ciliegie al mercato. Se il peso lordo della cassetta è di 2 Kg e la tara è di 500 gr, qual è il peso netto?

Un ortolano vende le sue 10 cassette di mele. Ogni cassetta pesa 6Kg, se la cassetta vuota pesa 1kg, quanto pesano le sole mele di ogni cassetta? Quanto pesano tutte le mele vendute?

Un barattolo di marmellata pesa 0,8kg, se la tara è di 100 g, qual è il peso netto della marmellata?

Per fare un regalo alla nonna Lia va al mercato con un cesto del peso di 2kg. Chiede al fruttivendolo di mettere 5 kg di frutta per tutti i gusti. Quanto peserà il cesto pieno?

Una vaschetta di formaggi misti pesa 7 hg, la vaschetta vuota 100g. Qual è il peso netto?


La mamma torna dal mercato con una scatola bellissima scatola di biscotti da 800g. Se la scatola pesa 200g, quanto pesano i biscotti?

Se 2kg di tagliatelle fresche vengono confezionate in una scatola da 200g, quanto pesa la confezione?

Luciano è goloso di tonno. Va al mercato e ne compra una scatola da 500g. Quando torna a casa, apre la scatola, scola l'olio e mette il tonno nel piatto. Se tonno e olio erano 400 g, qual era il peso della tara?


300g di carote, 2kg di mele, 300hg di fragole in un contenitore dal peso di 3 hg, Qual è il peso lordo?

Misure di massa



kg	hg	dag	unità di misura g	dg	cg	mg
1000g	100g	10g	unità di misura g	0,1g	0,01g	0,001g
Kilogrammo	ettogrammo	decagrammo	grammo	decigrammo	centigrammo	milligrammo

Misure di massa GRANDISSIME



Mg t	q	mag	kg	hg	dag	unità di misura g	dg	cg	mg
1000000 g	100000 g	10000 +	1000g	100g	10g	unità di misura g	0,1g	0,01g	0,001g
<u>megagrammo</u>	quintale	<u>miriagrammo</u>	Kilogrammo	ettogrammo	decagrammo	grammo	decigrammo	centigrammo	milligrammo